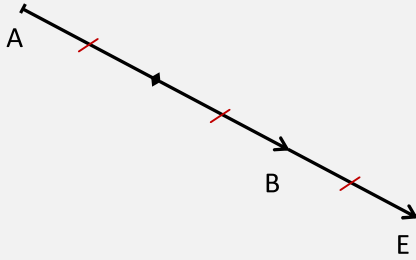


سلسلة 1	المرجع	السنة 1 بكالوريا علوم تجريبية
		<p>تمرين 1: A و B نقطتان مختلفتان. أنشئ النقط التالية: (أنشئ أشكالا مستقلة)</p> <p>1) مرجع النقطتين المتزنتين $(A,2)$ و $(B,1)$</p> <p>2) مرجع النقطتين المتزنتين $(A,-1)$ و $(B,3)$</p> <p>3) مرجع النقطتين المتزنتين $(A,-1)$ و $(B,2)$</p> <p>4) مرجع النقطتين المتزنتين $(A,100)$ و $(B,100)$</p>
		<p>تمرين 2: A و B و C نقط غير مستقيمة. لتكن G مرجع النقط للترتبة $(A,2)$ و $(B,1)$ و $(C,3)$</p> <p>1) اكتب \overline{BG} بدلالة \overline{BA} و \overline{BC} ثم أنشئ النقطة G</p> <p>2) باستعمال تجميعية المرجع أنشئ النقطة G</p>
		<p>تمرين 3: مثلث ABC مثلث.</p> <p>1) أنشئ G مرجع النقط للترتبة $(A,1)$ و $(B,1)$ و $(C,1)$</p> <p>2) ماذا تمثل G بالنسبة للمثلث ABC ؟</p>
		<p>تمرين 4: $ABCD$ متوازي أضلاع مركزه O.</p> <p>بين أن O هو مرجع النقط للترتبة $(A,1)$ و $(B,1)$ و $(C,1)$ و $(D,1)$</p>
		<p>تمرين 5: A و B نقطتان مختلفتان. ليكن G مرجع النقطتين المتزنتين $(A,2)$ و $(B,1)$</p> <p>1) بين أن A مرجع النقطتين المتزنتين $G,-3$ و $(B,1)$</p> <p>2) بين أن B مرجع النقطتين المتزنتين $(G,-6)$ و $(A,4)$</p>
		<p>تمرين 6: A و B نقطتان مختلفتان</p> <p>1) أنشئ B مرجع النقطتين المتزنتين $(A,3)$ و $(B,-1)$</p> <p>2) أنشئ F مرجع النقطتين المتزنتين $(A,1)$ و $(B,-3)$</p> <p>3) بين أن القطعتين $[AB]$ و $[EF]$ لهما نفس المنتصف.</p>

تمرين 1 :مرجح E النقطتين المتزنتين $(A, -1)$ و $(B, 3)$

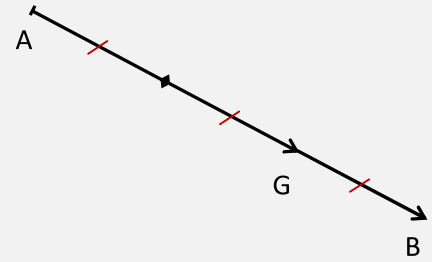
لدينا حسب الخاصية المميزة للمرجح:

$$\forall M \in (P) \overrightarrow{ME} = \frac{-1}{2} \overrightarrow{MA} + \frac{3}{2} \overrightarrow{MB}$$

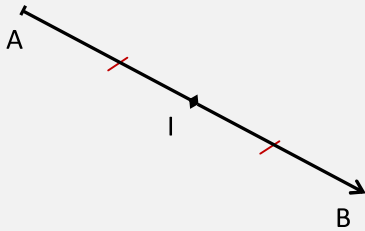
نأخذ: $M = A$ فنجد أن: $\overrightarrow{AE} = \frac{3}{2} \overrightarrow{AB}$ مرجح G النقطتين المتزنتين $(A, 2)$ و $(B, 1)$

لدينا حسب الخاصية المميزة للمرجح:

$$\forall M \in (P) \overrightarrow{MG} = \frac{1}{3} \overrightarrow{MA} + \frac{2}{3} \overrightarrow{MB}$$

نأخذ: $M = A$ فنجد أن: $\overrightarrow{AG} = \frac{2}{3} \overrightarrow{AB}$ إذا أخذنا: $M = B$ سنجد أن $\overrightarrow{BG} = \frac{1}{3} \overrightarrow{BA}$ ، لكننا سنجد

في نفس الموضع

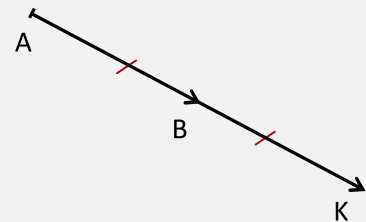
مرجح I النقطتين المتزنتين $(A, 100)$ و $(B, 100)$ بما أن المعاملان متساويان فإن I منتصف القطعة $[AB]$ 

مرجح نقطتين لهما نفس المعامل هو منتصف القطعة التي تصلهما

مرجح K النقطتين المتزنتين $(A, -1)$ و $(B, 2)$

لدينا حسب الخاصية المميزة للمرجح:

$$\forall M \in (P) \overrightarrow{MK} = \frac{-1}{1} \overrightarrow{MA} + \frac{2}{1} \overrightarrow{MB}$$

نأخذ: $M = A$ فنجد أن: $\overrightarrow{AK} = 2 \overrightarrow{AB}$ 

لإيجاد علاقة متجهية تسمح بالإنشاء يمكن أيضا استعمال تعريف المرجح، لكن هذه الطريقة تتطلب في الغالب استعمال علاقة شال للحصول على المتساويات السابقة.

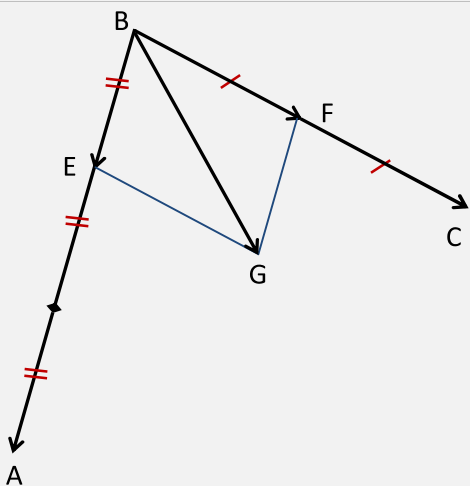
تمرين 2 : A و B و C نقط غير مستقيمة. مرجح النقط المتزنة $(A, 2)$ و $(B, 1)$ و $(C, 3)$ لدينا مرجح النقط المتزنة $(A, 2)$ و $(B, 1)$ و $(C, 3)$

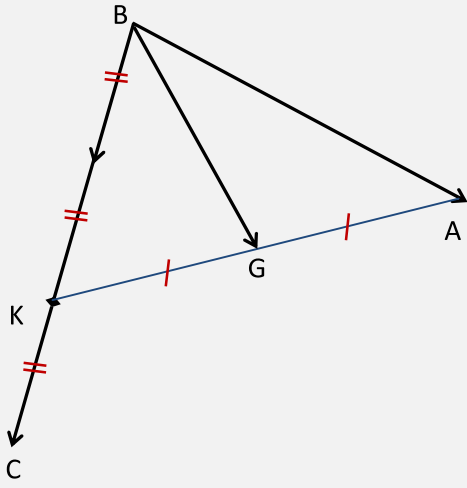
إذن حسب الخاصية المميزة للمرجح:

$$\forall M \in (P) \overrightarrow{MG} = \frac{2}{6} \overrightarrow{GA} + \frac{1}{6} \overrightarrow{GB} + \frac{3}{6} \overrightarrow{GC}$$

نأخذ: $M = B$ فنجد: $\overrightarrow{BG} = \frac{1}{3} \overrightarrow{BA} + \frac{1}{2} \overrightarrow{BC}$

1

لأجل الإنشاء أنشأنا أولا النقطة E حيث $\overrightarrow{BE} = \frac{1}{3} \overrightarrow{BA}$ ثم النقطة F حيث $\overrightarrow{BF} = \frac{1}{2} \overrightarrow{BC}$ ثم أنشأنا G حيث: $\overrightarrow{BG} = \overrightarrow{BE} + \overrightarrow{BF}$ أي $BEGF$ متوازي الأضلاع



لتكن K مرجح النقط المتزنة $(A,2)$ و $(B,1)$ بما أن G مرجح $(A,2)$ و $(B,1)$ و $(C,3)$ إذن حسب خاصية التجميعية فإن G مرجح $(K,3)$ و $(C,3)$ أي منتصف $[CK]$

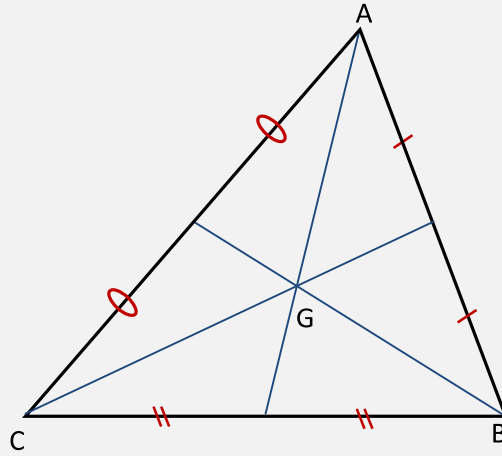
لدينا حسب الخاصية المميزة للمرجح:

$$\forall M \in (P) \overrightarrow{MK} = \frac{2}{3} \overrightarrow{MA} + \frac{1}{3} \overrightarrow{MB}$$

$$\overrightarrow{BK} = \frac{2}{3} \overrightarrow{BA} : \text{ فنجد } M = B$$

لاحظ أنه رغم اختلاف الطريقتين إلا أن موضع النقطة G لا يتغير.

تمرين 3: مثلث ABC مثلث.



بما أن G مرجح النقط المتزنة $(A,1)$ و $(B,1)$ و $(C,1)$ فإن G تمثل مركز ثقل المثلث ABC أي نقطة تقاطع متوسطاته

الإشياء في السؤال الأول تم بنفس طريقة الإنشاء في التمرين السابق.

مرجح ثلاث نقط لها نفس المعامل يكون هو مركز ثقل المثلث الذي رؤوسه هذه النقط، لذلك يمكن الاستغناء عن الطريقة السابقة والاستعانة بمتوسطاته (المستقيمات المارة بالرؤوس ومنتصف الضلع المقابل لكل رأس)

تمرين 4: لنبين أن بين أن O هو مرجح النقط المتزنة $(A,1)$ و $(B,1)$ و $(C,1)$ و $(D,1)$

$$\text{أي لنبين أن: } \overrightarrow{OA} + \overrightarrow{OB} + \overrightarrow{OC} + \overrightarrow{OD} = \vec{0}$$

لدينا $ABCD$ متوازي أضلاع مركزه O إذن O هي منتصف قطريه $[AC]$ و $[BD]$

$$\text{منه: } \overrightarrow{OA} + \overrightarrow{OC} = \vec{0} \text{ و } \overrightarrow{OB} + \overrightarrow{OD} = \vec{0} \text{ بالتالي: } \overrightarrow{OA} + \overrightarrow{OB} + \overrightarrow{OC} + \overrightarrow{OD} = \overrightarrow{OA} + \overrightarrow{OC} + \overrightarrow{OB} + \overrightarrow{OD} = \vec{0} + \vec{0} = \vec{0}$$

الشكل غير ضروري لكنه قد يساعد على إيجاد الفكرة.

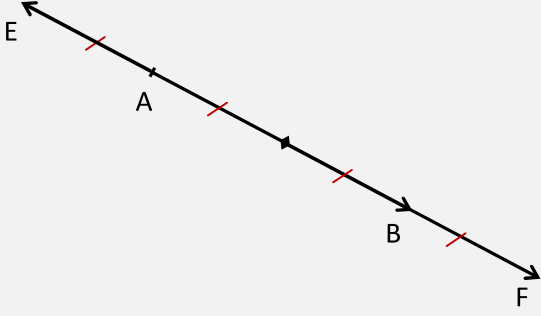
تمرين 5: G مرجح النقطتين المتزنتين $(A,2)$ و $(B,1)$

بين أن A مرجح النقطتين المتزنتين $(G,-3)$ و $(B,1)$ أي نبين: $-3\overrightarrow{AG} + \overrightarrow{AB} = \vec{0}$
لدينا G مرجح النقطتين المتزنتين $(A,2)$ و $(B,1)$ منه: $2\overrightarrow{GA} + \overrightarrow{GB} = \vec{0}$ منه $2\overrightarrow{GA} + \overrightarrow{AB} = \vec{0}$
منه: $3\overrightarrow{GA} + \overrightarrow{AB} = \vec{0}$ بالتالي: $-3\overrightarrow{AG} + \overrightarrow{AB} = \vec{0}$

بين أن B مرجح النقطتين المتزنتين $(G,-6)$ و $(A,4)$ أي نبين: $-6\overrightarrow{BG} + 4\overrightarrow{BA} = \vec{0}$
لدينا G مرجح النقطتين المتزنتين $(A,2)$ و $(B,1)$ منه: $2\overrightarrow{GA} + \overrightarrow{GB} = \vec{0}$ منه $2(\overrightarrow{GB} + \overrightarrow{BA}) + \overrightarrow{GB} = \vec{0}$
منه: $2\overrightarrow{GB} + 2\overrightarrow{BA} + \overrightarrow{GB} = \vec{0}$ منه $3\overrightarrow{GB} + 2\overrightarrow{BA} = \vec{0}$ منه $-3\overrightarrow{BG} + 2\overrightarrow{BA} = \vec{0}$ بالتالي: $-6\overrightarrow{BG} + 4\overrightarrow{BA} = 2\vec{0} = \vec{0}$

الشكل غير ضروري لكنه قد يساعد على إيجاد الفكرة.

تمرين 6 : A و B نقطتان مختلفتان.



لدينا E مرجح النقطتين المتزنتين $(A, 3)$ و $(B, -1)$ ، إذن حسب الخاصية المميزة للمرجح:

$$\forall M \in (P) \overrightarrow{ME} = \frac{3}{2} \overrightarrow{MA} + \frac{-1}{2} \overrightarrow{MB}$$

$$\overrightarrow{AE} = \frac{-1}{2} \overrightarrow{AB} : \text{نأخذ } M = A \text{ فنجد أن:}$$

1

لدينا F مرجح النقطتين المتزنتين $(A, 1)$ و $(B, -3)$ ، إذن حسب الخاصية المميزة للمرجح:

$$\forall M \in (P) \overrightarrow{MF} = \frac{1}{-2} \overrightarrow{MA} + \frac{-3}{-2} \overrightarrow{MB}$$

$$\overrightarrow{AF} = \frac{3}{2} \overrightarrow{AB} : \text{نأخذ } M = A \text{ فنجد أن:}$$

2

لتكن I منتصف $[AB]$ و لنبين أن I هي أيضا منتصف $[EF]$ أي لنبين أن $\overrightarrow{IE} + \overrightarrow{IF} = \vec{0}$
الطريقة الأولى:

$$\overrightarrow{IE} + \overrightarrow{IF} = \overrightarrow{IA} + \overrightarrow{AE} + \overrightarrow{IA} + \overrightarrow{AF} = 2\overrightarrow{IA} + \frac{-1}{2} \overrightarrow{AB} + \frac{3}{2} \overrightarrow{AB} = 2\overrightarrow{IA} + \overrightarrow{AB} = 2\overrightarrow{IA} + \overrightarrow{AI} + \overrightarrow{IB} = \overrightarrow{IA} + \overrightarrow{IB} = \vec{0}$$

بالتالي للمقطعين $[AB]$ و $[EF]$ نفس المنتصف.

الطريقة الثانية:

3

باستعمال الخاصية المميزة للمرجح بالنسبة لـ $M = I$ المستعملة في السؤالين السابقين نجد أن:

$$\overrightarrow{IE} + \overrightarrow{IF} = \left(\frac{-1}{2} + \frac{3}{2}\right) \overrightarrow{IA} + \left(\frac{3}{2} + \frac{-1}{2}\right) \overrightarrow{IB} = \overrightarrow{IA} + \overrightarrow{IB} = \vec{0} : \text{منه } \overrightarrow{IF} = \frac{-1}{2} \overrightarrow{IA} + \frac{3}{2} \overrightarrow{IB} \text{ و } \overrightarrow{IE} = \frac{3}{2} \overrightarrow{IA} + \frac{-1}{2} \overrightarrow{IB}$$

بالتالي للمقطعين $[AB]$ و $[EF]$ نفس المنتصف.

الخاصية المميزة للمرجح مفيدة في إنشاء المرجح و في كثير من البراهين.