

**TD-PRODUIT SCALAIRE DANS  $\mathcal{V}_2$**   
**Etude analytique -Applications : cercle**

**Exercice1** : dans Le plan ( $\mathcal{P}$ ) est rapporté à un repère orthonormé      Considérons les points

$A(1;-3)$  et  $B(3;7)$  et  $C(-3;1)$

- 1) Montrer que le triangle ABC est rectangle en C
- 2) Calculer la surface du triangle ABC

**Exercice2**: dans Le plan ( $\mathcal{P}$ ) est rapporté à un repère orthonormé      Considérons les points

$A(5;0)$  et  $B(2;1)$  et  $C(6;3)$

- 1) Calculer  $\cos(\overrightarrow{AB}; \overrightarrow{AC})$  et  $\sin(\overrightarrow{AB}; \overrightarrow{AC})$
- 2) en déduire une mesure de l'angle  $(\overrightarrow{AB}; \overrightarrow{AC})$

**Exercice3** : déterminer une équation cartésienne de la droite ( $D$ ) qui passe par  $A(0;1)$  et qui admet  $\vec{n}(2;1)$  comme vecteur normal

**Exercice4** : donner un vecteur normal a la droite ( $D$ ) dans les cas suivants : 1) ( $D$ ):  $x - 2y + 5 = 0$

2) ( $D$ ):  $2y - 3 = 0$       3) ( $D$ ):  $x - 1 = 0$

**Exercice5** : dans Le plan ( $\mathcal{P}$ ) est rapporté à un repère orthonormé      Considérons les points

$A(-3;0)$  et  $B(3;0)$  et  $C(1;5)$

- 1) déterminer une équation cartésienne de la droite ( $D$ ) perpendiculaire à la droite ( $AB$ ) passant par  $C$
- 2) déterminer une équation cartésienne de la droite ( $\Delta$ ) parallèle à la droite ( $AB$ ) passant par  $C$

**Exercice6** : dans Le plan ( $\mathcal{P}$ ) est rapporté à un repère orthonormé      Considérons les points  $A(1;2)$

et  $B(-2;3)$  et  $C(0;4)$

- 1) déterminer une équation cartésienne

de la droite ( $D$ ) médiatrice du segment  $[AB]$

- 2) déterminer une équation cartésienne de la droite ( $\Delta$ ) la hauteur du triangle ABC passant par A

**Exercice7** : ( $D$ )  $2x + 3y - 1 = 0$  et

$(D')$ :  $\frac{3}{2}x - y + 4 = 0$

Etudier la position relative de ( $D$ ) et ( $D'$ )

**Exercice8** : Soient la droite ( $D$ ) d'équation :

$(D)$ :  $3x + 4y + 5 = 0$

- 1) Déterminer les coordonnées du point  $H$  la projection orthogonale de  $O$  sur ( $D$ )

2) calculer La distance du point  $O$  à la droite ( $D$ )

- 3) Déterminer les coordonnées du point  $O'$  le symétrique de  $O$  par rapport à la droite ( $D$ )

**Exercice9**: dans Le plan ( $\mathcal{P}$ ) est rapporté à un repère orthonormé et direct      Considérons les points

$A(1;-1)$  et  $B(4;-1)$  et  $C(-2;2)$

- 1) Calculer :  $\overrightarrow{AB} \cdot \overrightarrow{AC}$  et  $\det(\overrightarrow{AB}; \overrightarrow{AC})$

2) en déduire une mesure de l'angle  $(\overrightarrow{AB}; \overrightarrow{AC})$

3) Calculer la surface du triangle ABC

4) déterminer une équation cartésienne de la hauteur du triangle ABC passant par A

5) déterminer une équation cartésienne de la bissectrice de l'angle  $(\overrightarrow{AB}; \overrightarrow{AC})$

**Exercice10** : déterminer l'équation cartésienne du cercle de centre  $\Omega(-1;2)$  et de rayon  $r = 3$

**Exercice11** : Déterminer L'ensemble ( $E$ ) dans les cas suivants :

1) ( $E$ ):  $x^2 + y^2 - x + 3y - 4 = 0$

2) ( $E$ ):  $x^2 + y^2 - 6x + 2y + 10 = 0$

3) ( $E$ ):  $x^2 + y^2 - 4x + 5 = 0$

**Exercice12** : Déterminer une équation du cercle de diamètre  $[AB]$  avec  $A(1;2)$  et  $B(-3;1)$

**Exercice13** : le plan ( $\mathcal{P}$ ) est rapporté à un repère orthonormé. Soient les points

$$A(2;3) \quad B(0;1); \quad C(-4;5); \quad E(5;2) \text{ et } F(2;4)$$

1)Ecrire l'équation du cercle circonscrit au Triangle  $ABC$ .

2)Ecrire l'équation du cercle circonscrit au triangle OEF

**Exercice14**: résoudre graphiquement le système :

$$(S) \begin{cases} x^2 + y^2 - 2x - 4y + \frac{11}{4} < 0 \\ x^2 + y^2 + 2x - 4 > 0 \end{cases}$$

**Exercice15** : résoudre graphiquement le système :

$$(S) \begin{cases} (1) : x^2 + y^2 - 4x < 0 \\ (2) : x - y - 1 > 0 \end{cases}$$

**Exercice16** :Etudier la position du cercle de centre  $\Omega(1;2)$  et de rayon  $R = 2$  avec la droite d'équation

$$(D) : x + y + 2 = 0$$

**Exercice17** :Etudier la position du cercle ( $\mathcal{C}$ ) de centre  $\Omega(1;2)$  et de rayon  $R = 2$  avec la droite d'équation ( $D$ ) :  $x - y + 2 = 0$

**Exercice18** ::Etudier la position du cercle ( $\mathcal{C}$ ) de centre  $\Omega(1;2)$  et de rayon  $R = 1$  avec la droite d'équation ( $D$ ) :  $y = 3$

**Exercice19** :Soit ( $\mathcal{C}$ ) le cercle d'équation :

$$x^2 + y^2 - 4x - 2y + 1 = 0 \quad (1)$$

1)Vérifier que  $A(0;1) \in (\mathcal{C})$

2) Ecrire l'équation de la tangente au cercle ( $\mathcal{C}$ ) en  $A$ .

**Exercice20** :Déterminer l'équation paramétrique du cercle ( $\mathcal{C}$ ) de centre  $\Omega(1;-2)$  et de rayon  $r = \sqrt{2}$

avec ( $\theta \in \mathbb{R}$ )

**Exercice21** : Déterminer l'ensemble( $\mathcal{C}$ ) des points

$M(x; y)$  du plan tel que :

$$\begin{cases} x = 3 + \sqrt{3} \cos \theta \\ y = 1 + \sqrt{3} \sin \theta \end{cases} \text{ avec } (\theta \in \mathbb{R})$$

**Exercice22** :le plan ( $\mathcal{P}$ ) est rapporté à un repère orthonormé. ( $\mathcal{C}$ ) l'ensemble des points

$$M(x; y) \text{ du plan tel que : } \begin{cases} x = 2 + 2 \cos \theta \\ y = 2 \sin \theta \end{cases} \text{ avec } (\theta \in \mathbb{R})$$

1) montrer que( $\mathcal{C}$ ) est le cercle ( $\mathcal{C}$ ) dont on déterminera de centre  $\Omega$  et de rayon  $R$  et une équation cartésienne

2)soit le point  $A(-1;0)$  ; montrer que  $A$  est à

l'extérieur du cercle ( $\mathcal{C}$ ) et déterminer les équations

des deux tangentes au cercle ( $\mathcal{C}$ ) passant par  $A$

3) déterminer les équations des deux tangentes au cercle ( $\mathcal{C}$ ) et qui sont parallèles à la droite :

$$(D) : 3x - 4y = 0$$

4)a)soit la droite ( $\Delta$ ) d'équation :  $y = x$

Montrer que ( $\Delta$ ) coupe le cercle( $\mathcal{C}$ ) en deux points à déterminer

4)b) déterminer graphiquement l'ensemble des points

$$M(x; y) \text{ du plan tel que : } \frac{x^2 + y^2}{4} \leq x \leq y$$

**Exercice23**:le plan ( $\mathcal{P}$ ) est rapporté à un repère orthonormé. Soient les points

$$A(3;4) \quad B(4;1); \quad C(2;-3)$$

1)montrer que les points  $A$  ;  $B$  et  $C$  sont non alignés

2)Ecrire l'équation du cercle ( $\mathcal{C}$ ) passant

par  $A$  ;  $B$  et  $C$

**Exercice 24**:le plan ( $\mathcal{P}$ ) est rapporté à un repère

orthonormé. ( $\mathcal{C}_m$ ) l'ensemble des points

$M(x; y)$  du plan tel que :

$$(\mathcal{C}_m) : x^2 + y^2 - 2mx + 2y + 2m = 0 \text{ avec } m \text{ Paramètre réel}$$

1)déterminer l'ensemble( $\mathcal{C}_1$ )

2) a)montrer que  $\forall m \in \mathbb{R} - \{1\}$  ( $\mathcal{C}_m$ ) est un cercle dont déterminera le centre  $\Omega_m$  et de rayon  $R_m$

2) b) déterminer l'ensemble des centres  $\Omega_m$  lorsque  $m \in \mathbb{R} - \{1\}$

2) b) montrer que tous les cercles ( $\mathcal{C}_m$ ) passent par un point fixe  $I$  dont déterminera et tracer ( $\mathcal{C}_0$ );( $\mathcal{C}_2$ );( $\mathcal{C}_3$ )

3) a) montrer que la droite ( $\Delta$ ) :  $x = 1$  est tangente

A toutes les cercles ( $\mathcal{C}_m$ )

3) b)soit  $m > \frac{-3}{2}$  et  $m \neq 1$  et le point  $A(0;1)$

Vérifier que  $A$  est à l'extérieur des cercles  $(C_m)$  et que  
la droite  $(AI)$  n'est pas tangente aux cercles  $(C_m)$

**TD-PRODUIT SCALAIRE DANS  $\mathcal{V}_2$**   
**Etude analytique -Applications : cercle**  
**Exercices avec corrections**

**Exercice1** : dans Le plan ( $\mathcal{P}$ ) est rapporté à un repère orthonormé  $\mathcal{R}(O; \vec{i}; \vec{j})$  Considérons les points

$A(1; -3)$  et  $B(3; 7)$  et  $C(-3; 1)$

- 1) Montrer que le triangle ABC est rectangle en C
- 2) Calculer la surface du triangle ABC

**Solution** : 1)

*Methode1* :  $\vec{BC}(-6; -6)$  et  $\vec{AC}(-4; 4)$  et  $\vec{AB}(2; 10)$

$AB = \|\vec{AB}\| = \sqrt{2^2 + 10^2} = \sqrt{104} = 2\sqrt{26}$

$AC = \sqrt{32} = 4\sqrt{2}$

$BC = \sqrt{72} = 6\sqrt{2}$

Puisque :  $AC^2 + BC^2 = 32 + 72 = 104$  et  $AB^2 = 104$

Donc :  $AC^2 + BC^2 = AB^2$

Donc : le triangle ABC est rectangle en C

*Methode2* :  $\vec{BC}(-6; -6)$  et  $\vec{AC}(-4; 4)$

Donc :  $\vec{AC} \cdot \vec{BC} = 24 - 24 + 0$  Donc :  $\vec{AC} \perp \vec{BC}$

Donc : le triangle ABC est rectangle en C

2) puisque le triangle ABC est rectangle en C alors :

$S = \frac{1}{2} CA \times CB = \frac{1}{2} 4\sqrt{2} \times 6\sqrt{2} = 24$

**Exercice2**: dans Le plan ( $\mathcal{P}$ ) est rapporté à un repère orthonormé  $\mathcal{R}(O; \vec{i}; \vec{j})$  Considérons les points

$A(5; 0)$  et  $B(2; 1)$  et  $C(6; 3)$

- 1) Calculer  $\cos(\vec{AB}; \vec{AC})$  et  $\sin(\vec{AB}; \vec{AC})$
- 2) en déduire une mesure de l'angle  $(\vec{AB}; \vec{AC})$

**Solution** : 1)  $\cos(\vec{AB}; \vec{AC}) = \frac{\vec{AB} \cdot \vec{AC}}{\|\vec{AB}\| \times \|\vec{AC}\|}$  et

$\sin(\vec{AB}; \vec{AC}) = \frac{\det(\vec{AB}; \vec{AC})}{\|\vec{AB}\| \times \|\vec{AC}\|}$

et on a :  $\vec{AB}(-3; 1)$  et  $\vec{AC}(1; 3)$

$\vec{AB} \cdot \vec{AC} = -3 \times 1 + 1 \times 3 = -3 + 3 = 0$

$\det(\vec{AB}; \vec{AC}) = \begin{vmatrix} -3 & 1 \\ 1 & 3 \end{vmatrix} = -10$

$AB = \|\vec{AB}\| = \sqrt{(-3)^2 + 1^2} = \sqrt{10}$  et  $AC = \sqrt{10}$

$\cos(\vec{AB}; \vec{AC}) = \frac{0}{\sqrt{10} \times \sqrt{10}} = 0$

$\sin(\vec{AB}; \vec{AC}) = \frac{-10}{\sqrt{10} \times \sqrt{10}} = -1$

2) on a :  $\vec{AB} \cdot \vec{AC} = 0$  et  $AB = AC$  donc le triangle ABC est rectangle et isocèle en A

$(\vec{AB}; \vec{AC}) = \frac{-\pi}{2} [2\pi]$  car :  $(\vec{AC}; \vec{BC}) = \frac{-\pi}{4} [2\pi]$  et

$\sin(\vec{AB}; \vec{AC}) = -1$

Donc :  $(\vec{AB}; \vec{BC}) = (\vec{AB}; \vec{AC}) + (\vec{AC}; \vec{BC}) [2\pi]$

$(\vec{AB}; \vec{BC}) = \frac{-\pi}{2} - \frac{\pi}{4} [2\pi] = -\frac{3\pi}{4} [2\pi]$

**Exercice3** : déterminer une équation cartésienne de la droite ( $D$ ) qui passe par  $A(0; 1)$  et qui admet  $\vec{n}(2; 1)$  comme vecteur normal

**Solution** : on a ( $D$ ) qui passe  $A(0; 1)$  et  $\vec{n}(2; 1)$  un vecteur normal donc : une équation cartésienne de la droite ( $D$ ) est :  $2(x - 0) + 1(y - 1) = 0$

donc : ( $D$ ) :  $2x + y - 1 = 0$

**Exercice4** : donner un vecteur normal a la droite ( $D$ ) dans les cas suivants : 1) ( $D$ ) :  $x - 2y + 5 = 0$

2) ( $D$ ) :  $2y - 3 = 0$       3) ( $D$ ) :  $x - 1 = 0$

**Solution** : un vecteur normal a la droite ( $D$ ) d'équation cartésienne :  $ax + by + c = 0$

Est  $\vec{n}(a; b)$

1) ( $D$ ) :  $x - 2y + 5 = 0$  :  $\vec{n}(1; -2)$  un vecteur normal

2) ( $D$ ) :  $0x + 2y - 3 = 0$  :  $\vec{n}(0; 2)$  un vecteur normal

2) ( $D$ ) :  $1x + 0y - 1 = 0$  :  $\vec{n}(1; 0)$  un vecteur normal

**Exercice5 :** dans Le plan ( $\mathcal{P}$ ) est rapporté à un repère orthonormé  $\mathcal{R}(O; \vec{i}; \vec{j})$  Considérons les points

$$A(-3;0) \text{ et } B(3;0) \text{ et } C(1;5)$$

1)déterminer une équation cartésienne de la droite ( $D$ ) perpendiculaire à la droite ( $AB$ ) passant par  $C$

2)déterminer une équation cartésienne de la droite ( $\Delta$ ) parallèle à la droite ( $AB$ ) passant par  $C$

**Solution :** 1)soit  $M$  un point du plan ( $\mathcal{P}$ )  
 $M \in (D) \Leftrightarrow \overrightarrow{CM} \cdot \overrightarrow{AB} = 0 \Leftrightarrow 6(x-1) - (y-5) = 0$   
 $\Leftrightarrow 6x - y - 1 = 0$

$$\text{Donc : } (D) : 6x - y - 1 = 0$$

1)soit  $M(x; y)$  un point du plan ( $\mathcal{P}$ )

$$M \in (\Delta) \Leftrightarrow \overrightarrow{CM} \cdot \vec{n} = 0$$

Avec  $\vec{n}$  un vecteur normal a la droite ( $AB$ )

Le vecteur :  $\overrightarrow{AB}(6, -1)$  est un vecteur directeur de la droite ( $AB$ ) et on a :  $\vec{n}(1, 6)$

$$\text{On a donc : } M \in (\Delta) \Leftrightarrow (x-1) + 6(y-5) = 0$$

$$\Leftrightarrow x + 6y - 31 = 0 \text{ Donc : } (\Delta) : x + 6y - 31 = 0$$

**Exercice6 :** dans Le plan ( $\mathcal{P}$ ) est rapporté à un repère orthonormé  $\mathcal{R}(O; \vec{i}; \vec{j})$  Considérons les points  $A(1;2)$

$$\text{et } B(-2;3) \text{ et } C(0;4)$$

1)déterminer une équation cartésienne de la droite ( $D$ ) médiatrice du segment  $[AB]$

2)déterminer une équation cartésienne de la droite ( $\Delta$ ) la hauteur du triangle ABC passant par A

**Solution :** 1) ( $D$ )/  $ax + by + c = 0$

Avec  $\overrightarrow{AB}(a, b)$  un vecteur normal a ( $D$ )

$$\overrightarrow{AB}(-3, 1) \text{ donc : } (D) / -3x + y + c = 0$$

Or  $I \in (D)$   $I$  est le milieu du segment  $[AB]$

$$I\left(\frac{x_A + x_B}{2}, \frac{y_A + y_B}{2}\right) \text{ donc } I\left(\frac{-1}{2}, \frac{5}{2}\right)$$

$$\text{Donc : } -3\left(-\frac{1}{2}\right) + \frac{5}{2} + c = 0 \Leftrightarrow \frac{3}{2} + \frac{5}{2} + c = 0 \Leftrightarrow c = -4$$

$$\text{Par suite : } (D) / -3x + y - 4 = 0$$

2)( $\Delta$ ) la hauteur du triangle ABC passant par A

Donc : ( $\Delta$ ) perpendiculaire a ( $BC$ ) passant par A

Donc  $\overrightarrow{BC}(2, 1)$  un vecteur normal a ( $\Delta$ ) donc

$$(\Delta) / 2x + y + c = 0 \text{ et on a } A \in (\Delta) \text{ donc}$$

$$2 \times 1 + 2 + c = 0 \Leftrightarrow c = -4$$

$$(\Delta) / 2x + y - 4 = 0$$

**Exercice7 :** ( $D$ )  $2x + 3y - 1 = 0$  et ( $D'$ )  $\frac{3}{2}x - y + 4 = 0$

Etudier la position relative de ( $D$ ) et ( $D'$ )

**Solution :**

$\vec{n}(2; 3)$  est un vecteur normal de ( $D$ )

$\vec{n}'\left(\frac{3}{2}; -1\right)$  est un vecteur normal de ( $D'$ )

$$\vec{n} \cdot \vec{n}' = 2 \times \frac{3}{2} + 3 \times (-1) = 3 - 3 = 0 \text{ donc } \vec{n} \perp \vec{n}'$$

donc ( $D$ )  $\perp$  ( $D'$ )

**Exercice8 :** Soient la droite ( $D$ ) d'équation :

$$(D) : 3x + 4y + 5 = 0$$

1)Déterminer les coordonnées du point  $H$  la projection orthogonale de  $O$  sur ( $D$ )

2)calculer La distance du point  $O$  à la droite ( $D$ )

3)Déterminer les coordonnées du point  $O'$  le symétrique de  $O$  par rapport à la droite ( $D$ )

**Solution :** 1)puisque  $H$  est la projection orthogonale de  $O$  sur ( $D$ ) alors  $H$  est le point d'intersection de la droite ( $D$ ) et la droite ( $\Delta$ ) qui passe par  $O$  et perpendiculaire a ( $D$ ) on va donc résoudre le système

$$\text{suivant : } \begin{cases} (D) : 3x + 4y + 5 = 0 \\ (\Delta) : 4x - 3y = 0 \end{cases} \text{ On trouve : } x = \frac{-3}{5} \text{ et}$$

$$y = \frac{-4}{5} \text{ donc } H\left(\frac{-3}{5}; \frac{-4}{5}\right)$$

*Autre méthode :* Soit  $H(x_H; y_H)$  on a

$$H \in (D) \Leftrightarrow 3x_H + 4y_H + 5 = 0$$

$\overrightarrow{OH}$  est normal a la droite ( $D$ ) donc colinéaire avec

$$\vec{u}(3; 4) \text{ Donc : } \exists k \in \mathbb{R} / \overrightarrow{OH} = k\vec{u} \Leftrightarrow \begin{cases} x_H = 3k \\ y_H = 4k \end{cases}$$

Pour déterminer  $x_H$  et  $y_H$  on va donc résoudre le

$$\text{système suivant : } \begin{cases} (1) x_H = 3k \\ (2) y_H = 4k \\ (3) 3x_H + 4y_H + 5 = 0 \end{cases}$$

On remplace (1) et (2) dans (3) on trouve :

$$k = \frac{-1}{5} \text{ Donc : } \begin{cases} x_H = \frac{-3}{5} \\ y_H = \frac{-4}{5} \end{cases}$$

$$2) d(O; (D)) = \frac{|ax_0 + by_0 + c|}{\sqrt{a^2 + b^2}} = \frac{|3 \times 0 + 4 \times 0 + 5|}{\sqrt{3^2 + 4^2}} = \frac{5}{5} = 1$$

3)  $O'$  le symétrique de  $O$  par rapport à la droite  $(D)$   
Donc  $H$  est le milieu du segment  $[OO']$

Donc :  $\overrightarrow{OH} = -\overrightarrow{HO'}$  on pose :  $O'(x; y)$

$$\text{Donc : } \begin{cases} \frac{-3}{5} - x = \frac{3}{5} \\ \frac{-4}{5} - y = \frac{4}{5} \end{cases} \Leftrightarrow \begin{cases} x = -\frac{6}{5} \\ y = -\frac{8}{5} \end{cases} \text{ Donc : } O' \left( -\frac{6}{5}; -\frac{8}{5} \right)$$

**Exercice9:** dans Le plan  $(\mathcal{P})$  est rapporté à un repère orthonormé et direct  $\mathcal{R}(O; \vec{i}; \vec{j})$  Considérons les points

$A(1; -1)$  et  $B(4; -1)$  et  $C(-2; 2)$

1) Calculer :  $\overrightarrow{AB} \cdot \overrightarrow{AC}$  et  $\det(\overrightarrow{AB}; \overrightarrow{AC})$

2) en déduire une mesure de l'angle  $(\overrightarrow{AB}; \overrightarrow{AC})$

3) Calculer la surface du triangle ABC

4) déterminer une équation cartésienne de la hauteur du triangle ABC passant par A

5) déterminer une équation cartésienne de la bissectrice de l'angle  $(\overrightarrow{AB}; \overrightarrow{AC})$

**Solution :** 1) on a :  $\overrightarrow{AB}(3; 0)$  et  $\overrightarrow{AC}(-3; 3)$

$$\overrightarrow{AB} \cdot \overrightarrow{AC} = 3 \times (-3) + 0 \times 3 = -9$$

$$\det(\overrightarrow{AB}; \overrightarrow{AC}) = \begin{vmatrix} 3 & -3 \\ 0 & 3 \end{vmatrix} = 9$$

2) soit  $\alpha$  une mesure de l'angle  $(\overrightarrow{AB}; \overrightarrow{AC})$  on a :

$$\cos(\overrightarrow{AB}; \overrightarrow{AC}) = \frac{\overrightarrow{AB} \cdot \overrightarrow{AC}}{\|\overrightarrow{AB}\| \times \|\overrightarrow{AC}\|} \text{ et } \sin(\overrightarrow{AB}; \overrightarrow{AC}) = \frac{\det(\overrightarrow{AB}; \overrightarrow{AC})}{\|\overrightarrow{AB}\| \times \|\overrightarrow{AC}\|}$$

$$AB = \|\overrightarrow{AB}\| = \sqrt{3^2 + 0^2} = 3 \text{ et } AC = 3\sqrt{2}$$

$$\text{Donc : } \cos \alpha = \frac{-9}{9\sqrt{2}} = \frac{-\sqrt{2}}{2} \text{ et } \sin \alpha = \frac{9}{9\sqrt{2}} = \frac{\sqrt{2}}{2}$$

$$\text{Donc : } \alpha = \frac{3\pi}{4}$$

$$3) \text{ on a : } S = \frac{1}{2} |\det(\overrightarrow{AB}; \overrightarrow{AC})| = \frac{9}{2} \text{ cm}^2$$

4) soit  $(\Delta)$  la hauteur du triangle ABC passant par A

Donc :  $(\Delta)$  perpendiculaire à  $(BC)$  passant par A

Donc  $\overrightarrow{BC}(-6; 3)$  un vecteur normal à  $(\Delta)$  donc

$(\Delta) / -6x + 3y + c = 0$  et on a  $A(1; -1) \in (\Delta)$  donc

$$-6 \times 1 - 3 + c = 0 \Leftrightarrow c = 9$$

$(\Delta) / -6x + 3y + 9 = 0$  donc :  $(\Delta) / 2x - y - 3 = 0$

4) soit  $(D)$  la bissectrice de l'angle  $(\overrightarrow{AB}; \overrightarrow{AC})$

Pour Chaque point  $M(x, y)$  de la droite  $(D)$

$$\text{On a : } d(M; (AB)) = d(M; (AC))$$

$$\text{D'où } \frac{|y+1|}{\sqrt{0^2+1^2}} = \frac{|x+y|}{\sqrt{0^2+1^2}}$$

$$\Leftrightarrow \sqrt{2}|y+1| = |x+y|$$

On remarque que  $(D)$  se trouve dans le demi plan tel

$$\text{que : } \begin{cases} y+1 \geq 0 \\ x+y \geq 0 \end{cases} \text{ donc : } \sqrt{2}(y+1) = x+y$$

donc : l'équation cartésienne de  $(D)$  est :

$$\begin{cases} x + (1 - \sqrt{2})y - \sqrt{2} = 0 \\ y + 1 \geq 0 \end{cases} \text{ (D) est un demi droite}$$

**Exercice10 :** déterminer l'équation cartésienne du cercle de centre  $\Omega(-1; 2)$  et de rayon  $r = 3$

**Solution :** l'équation cartésienne du cercle est :

$$\mathcal{C}(\Omega, r) : (x+1)^2 + (y-2)^2 = 3^2$$

$$\text{C a d : } x^2 + y^2 + 2x - 4y - 4 = 0$$

**Exercice11 :** Déterminer L'ensemble  $(E)$  dans les cas suivants :

$$1) (E) : x^2 + y^2 - x + 3y - 4 = 0$$

$$2) (E) : x^2 + y^2 - 6x + 2y + 10 = 0$$

$$3) (E) : x^2 + y^2 - 4x + 5 = 0$$

$$\text{Solutions : } 1) a = \frac{1}{2}; b = -\frac{3}{2}; c = -4$$

$$\text{On a : } a^2 + b^2 - c = \left(\frac{1}{2}\right)^2 + \left(-\frac{3}{2}\right)^2 - (-4) = \frac{1}{4} + \frac{9}{4} + 4 = \frac{13}{2} > 0$$

$$\text{Donc : } \Omega\left(\frac{-a}{2}; \frac{-b}{2}\right) \text{ donc } \Omega\left(\frac{1}{2}; \frac{-3}{2}\right)$$

$$R = \sqrt{a^2 + b^2 - c} = \frac{\sqrt{26}}{2}$$

alors  $(E)$  : est une cercle de centre

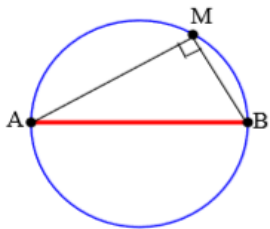
$\Omega\left(\frac{1}{2}; \frac{-3}{2}\right)$  et de rayon  $\frac{\sqrt{26}}{2}$

2)  $a=3; b=-1; c=10$   $a^2+b^2-c=3^2+(-1)^2-10=9+1-10=0$

alors  $(E) = \{\Omega(3; -1)\}$

3)  $a=2; b=0; c=5$

**Exercice12** : Déterminer une équation du cercle de diamètre  $[AB]$  avec  $A(1;2)$  et  $B(-3;1)$



**solution :**

$M(x; y) \in (C) \Leftrightarrow \overrightarrow{MA} \cdot \overrightarrow{MB} = 0$

$\overrightarrow{MA}(1-x; 2-y)$  et

$\overrightarrow{MB}(-3-x; 1-y)$

$M(x; y) \in (C) \Leftrightarrow (-3-x)(1-x) + (1-y)(2-y) = 0$

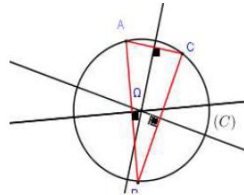
Donc :  $(C) : x^2 + y^2 + 2x - 3y - 1 = 0$

**Exercice13** : le plan  $(P)$  est rapporté à un repère  $\mathcal{R}(O; \vec{i}; \vec{j})$

orthonormé. Soient les points

$A(2;3)$   $B(0;1)$ ;  $C(-4;5)$ ;

$E(5;2)$  et  $F(2;4)$



1) Ecrire l'équation du cercle circonscrit au Triangle  $ABC$ .

2) Ecrire l'équation du cercle circonscrit au triangle OEF. **Solution :** 1) Soient  $I(1;2)$  et  $J(-1;4)$  le milieu respectivement du segments :  $[AB]$  et  $[AC]$

Et soit  $(\Delta)$  la médiatrice de  $[AB]$  donc  $(\Delta)$  passe par  $I(1;2)$  et  $\overrightarrow{AB}$  un vecteur normal a  $(\Delta)$

Et on a :  $\overrightarrow{AB}(-2; -2)$  donc une équation de  $(\Delta)$  est :

$(\Delta) : -2(x-1) - 2(y-2) = 0$

Donc :  $(\Delta) : -2x + 2 - 2y + 4 = 0$  donc  $(\Delta) : -2x - 2y + 6 = 0$

donc  $(\Delta) : x + y - 3 = 0$  (après simplifications)

Et soit  $(\Delta')$  la médiatrice de  $[AC]$  donc  $(\Delta')$  passe par  $J(-1;4)$  et  $\overrightarrow{AC}$  un vecteur normal a  $(\Delta')$  et on a :

$\overrightarrow{AC}(-6; 2)$  donc une équation de  $(\Delta')$  est :

$(\Delta') : -6(x+1) + 2(y-4) = 0$  donc :  $(\Delta') : 3x - y + 7 = 0$

On a  $\Omega$  est le Centre du cercle circonscrit du triangle  $ABC$  donc le point d'intersection de  $(\Delta)$  et  $(\Delta')$  on va donc résoudre le système :

$$\begin{cases} (\Delta) : x + y - 3 = 0 \\ (\Delta') : 3x - y + 7 = 0 \end{cases}$$

Et la solution de ce système est :  $(-1;4)$  donc

$\Omega(-1;4)$  est le centre du cercle circonscrit du triangle

$ABC$  et le rayon est :  $r = A\Omega = \sqrt{(-1-2)^2 + (4-3)^2} = \sqrt{10}$

Et l'équation du cercle est :  $(x+1)^2 + (y-4)^2 = 10$

$(C) : x^2 + y^2 + 2x - 8y + 7 = 0$

2) déterminons l'équation du cercle circonscrit au triangle OEF. On sait que l'équation du cercle s'écrit sous la forme :  $(C') : x^2 + y^2 - 2ax - 2by + c = 0$

Et on a :  $O \in (C') \Leftrightarrow c = 0$

$E(5;2) \in (C') \Leftrightarrow 25 + 4 - 10a - 4b = 0$

$F(2;4) \in (C') \Leftrightarrow 4 + 16 - 4a - 8b = 0$

on va donc résoudre le système :

$$\begin{cases} 10a + 4b = 29 \\ a + 2b = 5 \\ c = 0 \end{cases} \Leftrightarrow \begin{cases} a = \frac{19}{8} \\ b = \frac{21}{16} \\ c = 0 \end{cases}$$

Et l'équation du cercle est :

$(C') : x^2 + y^2 - \frac{19}{4}x - \frac{21}{8}y = 0$

**Exercice14**: résoudre graphiquement le système :

$$(S) \begin{cases} x^2 + y^2 - 2x - 4y + \frac{11}{4} < 0 \\ x^2 + y^2 + 2x - 4 > 0 \end{cases}$$

**Solution :**  $x^2 + y^2 - 2x - 4y + \frac{11}{4} = 0$

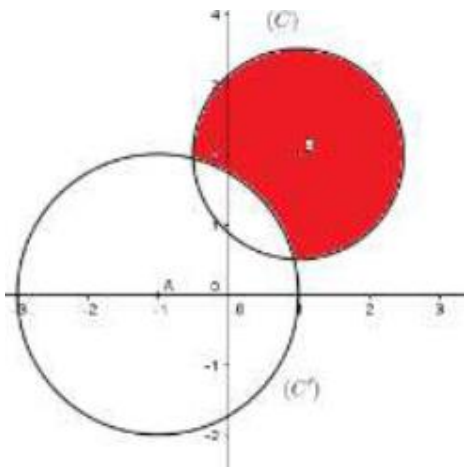
Est l'équation du cercle  $(C)$

de centre  $B(1,2)$  et de rayon  $r = \frac{3}{2}$

$x^2 + y^2 + 2x - 4 = 0$  est l'équation du cercle  $(C')$

de centre  $A(-1,0)$  et de rayon  $r' = 2$ .

L'ensemble des points  $M$  qui vérifient  $(S)$  est l'extérieur de  $(C')$  intersection l'intérieur de  $(C)$



**Exercice15** : résoudre graphiquement le système :

$$(S) \begin{cases} (1) : x^2 + y^2 - 4x < 0 \\ (2) : x - y - 1 > 0 \end{cases}$$

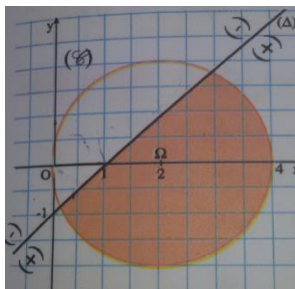
**solution** : (1) :  $x^2 + y^2 - 4x < 0 \Leftrightarrow (x-2)^2 + y^2 < 2^2$

Donc les solutions de cette inéquation c'est les couples  $(x; y)$  des points qui se trouvent à l'intérieurs du cercle  $(C)$  de centre  $\Omega(2;0)$  et de rayon  $r = 2$

• (2) :  $x - y - 1 > 0$  : les solutions de cette inéquation c'est les couples  $(x; y)$  des points qui se trouvent au-dessous de la droite d'équation :  $(\Delta) : x^2 + y^2 - 4x = 0$  (demi plan qui contient  $\Omega(2;0)$ )

Car :  $2 - 0 - 1 = 1 > 0$  )

Finalement l'ensemble des solutions du système c'est les couples  $(x; y)$  des points qui appartiennent à la partie colorée.

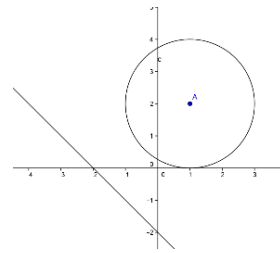


**Exercice16** : Etudier la position du cercle de centre  $\Omega(1;2)$  et de rayon  $R = 2$  avec la droite d'équation

$$(D) : x + y + 2 = 0$$

**Solution** : on calcul  $d(\Omega, (P))$  ?

$$d(\Omega, (P)) = \frac{|1+2+2|}{\sqrt{1^2+1^2}} = \frac{|5|}{\sqrt{2}} = \frac{5\sqrt{2}}{2} > R = 2$$



Donc : droite  $(D)$  est à l'extérieur du cercle  $(C)$   
 $(C) \cap (D) = \emptyset$

**Exercice17** : Etudier la position du cercle  $(C)$  de centre  $\Omega(1;2)$  et de rayon  $R = 2$  avec la droite d'équation  $(D) : x - y + 2 = 0$

**Solution** on calcul  $d(\Omega, (P))$  ?

$$d(\Omega, (P)) = \frac{|1-2+2|}{\sqrt{1^2+(-1)^2}} = \frac{|1|}{\sqrt{2}} = \frac{\sqrt{2}}{2} < R = 2$$

Donc : le cercle  $(C)$  et la droite  $(D)$  se coupent en deux points  $A$  et  $B$   
 Déterminons les coordonnées des points d'intersections ?

On va résoudre le système suivant :

$$\Leftrightarrow \begin{cases} (1) (x-1)^2 + (y-2)^2 = (2)^2 \\ (2) x - y + 2 = 0 \end{cases}$$

On a : (2)  $\Leftrightarrow x + 2 = y$

On remplaçant dans (1)  $y = x + 2$

On trouve : (1)  $(x-1)^2 + (x+2-2)^2 = (2)^2$

Donc :  $(x-1)^2 + (x)^2 = 4 \Leftrightarrow x^2 - 2x + 1 + x^2 = 4$

Donc :  $2x^2 - 2x - 3 = 0 \quad \Delta = 28$

Donc :  $x_1 = \frac{2+2\sqrt{7}}{4}$  et  $x_2 = \frac{2-2\sqrt{7}}{4}$

Donc :  $x_1 = \frac{1+\sqrt{7}}{2}$  et  $x_2 = \frac{1-\sqrt{7}}{2}$

Si :  $x_1 = \frac{1+\sqrt{7}}{2}$  on remplace dans  $x+2=y$

On trouve :  $y_1 = \frac{1+\sqrt{7}}{2} + 2 = \frac{5+\sqrt{7}}{2}$

Si :  $x_2 = \frac{1-\sqrt{7}}{2}$  on

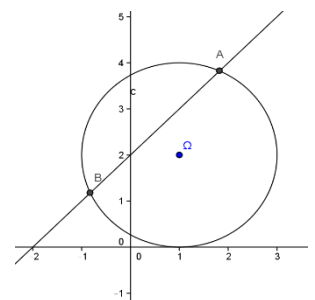
remplace dans  $x+2=y$

On trouve :

$$y_2 = \frac{1-\sqrt{7}}{2} + 2 = \frac{5-\sqrt{7}}{2}$$

Donc : les points d'intersections sont :

$$A\left(\frac{1+\sqrt{7}}{2}; \frac{5+\sqrt{7}}{2}\right) \text{ et } B\left(\frac{1-\sqrt{7}}{2}; \frac{5-\sqrt{7}}{2}\right)$$





**Exercice18** : Etudier la position du cercle (C) de centre  $\Omega(1;2)$  et de rayon  $R=1$  avec la droite d'équation (D):  $y=3$

**Solution** on calcul  $d(\Omega, (D))$  ?

$$(D): 0x+1y-3=0$$

$$d(\Omega, (D)) = \frac{|0+2-3|}{\sqrt{0^2+1^2}} = \frac{|-1|}{\sqrt{1}} = 1 = R$$

Donc : la droite (D) est tangente au cercle (C) en A. Déterminons les coordonnées du point d'intersection ou point de tangence ?

L'équation de (C) est  $(x-1)^2+(y-2)^2=1^2$

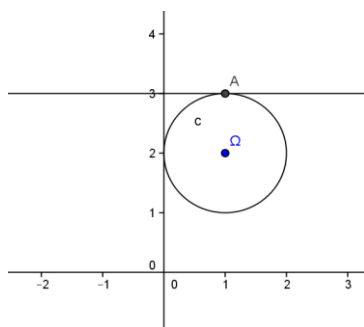
On va résoudre le système suivant :

$$\Leftrightarrow \begin{cases} (1)(x-1)^2+(y-2)^2=1 \\ (2)y=3 \end{cases}$$

On remplaçant dans  $y=3$  dans (1)

On aura :

$$(1)(x-1)^2+1=1 \Leftrightarrow (x-1)^2=0 \Leftrightarrow x-1=0$$



Donc :  $x=1$  donc point de tangence est  $A(1;3)$

**Exercice19** : Soit (C) le cercle d'équation :

$$x^2+y^2-4x-2y+1=0 \quad (1)$$

1) Vérifier que  $A(0;1) \in (C)$

2) Ecrire l'équation de la tangente au cercle (C) en A.

**Solution** : 1) On a :  $0^2+1^2-4 \times 0-2 \times 1+1=0$

Donc  $A(0;1) \in (C)$

2) L'équation de la tangente au cercle (C) en A. ??

$$a=2; b=1; c=1 : a^2+b^2-c=2^2+1^2-1=4 > 0$$

Donc (C) cercle de centre  $\Omega(\frac{-a}{2}; \frac{-b}{2})$  cad  $\Omega(2;1)$

$$\overrightarrow{A\Omega}(-2;0) \text{ et } \overrightarrow{AM}(x-0; y-1)$$

$$M(x; y) \in (D) \Leftrightarrow \overrightarrow{AM} \cdot \overrightarrow{A\Omega} = 0$$

$$-2(x-0)=0 \Leftrightarrow -2(x-0)+0(y-1)=0 \Leftrightarrow M(x; y) \in (D)$$

$$M(x; y) \in (D) \Leftrightarrow x=0$$

Donc : L'équation de la tangente au cercle (C) en A est : (D):  $x=0$

**Exercice20** : Déterminer l'équation paramétrique du cercle (C) de centre  $\Omega(1;-2)$  et de rayon  $r=\sqrt{2}$

**Solution** : l'équation paramétrique du cercle (C) de centre  $\Omega(1;-2)$  et de rayon  $r=\sqrt{2}$  est :

$$\begin{cases} x=1+\sqrt{2} \cos \theta \\ y=-2+\sqrt{2} \sin \theta \end{cases} \text{ avec } (\theta \in \mathbb{R})$$

**Exercice21** : Déterminer l'ensemble (C) des points

$M(x; y)$  du plan tel que :

$$\begin{cases} x=3+\sqrt{3} \cos \theta \\ y=1+\sqrt{3} \sin \theta \end{cases} \text{ avec } (\theta \in \mathbb{R})$$

**Solution** :  $\begin{cases} x-3=\sqrt{3} \cos \theta \\ y-1=\sqrt{3} \sin \theta \end{cases} \Leftrightarrow \begin{cases} x=3+\sqrt{3} \cos \theta \\ y=1+\sqrt{3} \sin \theta \end{cases}$

$$(x-3)^2+(y-1)^2=(\sqrt{3} \cos \theta)^2+(\sqrt{3} \sin \theta)^2 \Leftrightarrow$$

$$(x-3)^2+(y-1)^2=3((\cos \theta)^2+(\sin \theta)^2) \Leftrightarrow$$

$$(x-3)^2+(y-1)^2=\sqrt{3}^2$$

Donc l'ensemble (C) des points  $M(x; y)$  du plan est le cercle (C) de centre  $\Omega(3;1)$  et de rayon  $R=\sqrt{3}$

**Exercice22** : le plan (P) est rapporté à un repère

$\mathcal{R}(\vec{O}; \vec{i}; \vec{j})$  orthonormé. (C) l'ensemble des points

$M(x; y)$  du plan tel que :  $\begin{cases} x=2+2 \cos \theta \\ y=2 \sin \theta \end{cases}$  avec  $(\theta \in \mathbb{R})$

1) montrer que (C) est le cercle (C) dont on déterminera de centre  $\Omega$  et de rayon  $R$  et une équation cartésienne

2) soit le point  $A(-1;0)$  ; montrer que A est à

l'extérieur du cercle (C) et déterminer les équations

des deux tangentes au cercle (C) passant par A

3) déterminer les équations des deux tangentes au cercle (C) et qui sont parallèles à la droite :

$$(D) : 3x-4y=0$$

4) a) soit la droite ( $\Delta$ ) d'équation :  $y=x$

Montrer que ( $\Delta$ ) coupe le cercle (C) en deux points à déterminer

4)b) déterminer graphiquement l'ensemble des points

$M(x; y)$  du plan tel que :  $\frac{x^2+y^2}{4} \leq x \leq y$

**Solution :1)**  $\begin{cases} x=2+2\cos\theta \\ y=2\sin\theta \end{cases} \Leftrightarrow \begin{cases} x-2=2\cos\theta \\ y-0=2\sin\theta \end{cases}$

$$(x-2)^2 + (y-0)^2 = (2\cos\theta)^2 + (2\sin\theta)^2 \Leftrightarrow$$

$$(x-2)^2 + (y-0)^2 = 4((\cos\theta)^2 + (\sin\theta)^2) \Leftrightarrow$$

$$(x-2)^2 + (y-0)^2 = 2^2$$

Donc l'ensemble  $(C)$  des points  $M(x; y)$  du plan est le cercle  $(C)$  de centre  $\Omega(2;0)$  et de rayon  $R=2$

2)  $A(-1;0)$  ;  $(C) : (x-2)^2 + (y-0)^2 = 2^2$

On a :  $(-1-2)^2 + (0-0)^2 - 4 = 9 - 4 > 0$  donc  $A$  est à l'extérieur du cercle  $(C)$

Soit  $(T)$  une droite qui passe par  $A$  et tangente au cercle  $(C)$  et soit :  $ax+by+c=0$  une équation cartésienne de  $(T)$  avec  $(a;b) \neq (0;0)$

Puisque  $(T)$  est tangente au cercle  $(C)$  alors :

$$d(\Omega, (T)) = R \text{ cad } \frac{|2a+c|}{\sqrt{a^2+b^2}} = 2 :$$

Et on a :  $A \in (T)$  donc :  $-a+c=0$  donc on trouve :

$$b = \frac{a\sqrt{5}}{2} \text{ ou } b = -\frac{a\sqrt{5}}{2} \text{ et l'équation cartésienne de}$$

$$(T) \text{ est : } 2x - \sqrt{5}y + 2 = 0 \text{ ou } 2x + \sqrt{5}y + 2 = 0$$

Par suite les équations des deux tangentes au cercle  $(C)$  passant par  $A$  sont :

$$(T_1) : 2x - \sqrt{5}y + 2 = 0 \text{ ou } (T_2) : 2x + \sqrt{5}y + 2 = 0$$

3)  $(D) : 3x - 4y = 0$   $\Omega(2;0)$

Puisque  $(T) \parallel (D)$  donc on pose :

$$(T) : 3x - 4y + c = 0 \text{ et } (T) \text{ tangentes au cercle } (C)$$

$$\text{Donc : } d(\Omega, (T)) = R \Leftrightarrow \text{cad } \frac{|6+c|}{\sqrt{3^2+(-4)^2}} = 2 :$$

$$\Leftrightarrow \frac{|6+c|}{5} = 2 \Leftrightarrow |6+c| = 10 \Leftrightarrow 6+c = 10 \text{ Ou } 6+c = -10$$

$$c = 4 \text{ ou } c = -16$$

Donc les tangentes au cercle  $(C)$  sont :

$$(T'_1) : 3x - 4y + 4 = 0 \text{ ou } (T'_2) : 3x - 4y - 16 = 0$$

4)a) on va résoudre le système suivant :

$$\begin{cases} (x-2)^2 + (y-0)^2 = 2^2 \\ y = x \end{cases} \text{ donc : } y = x \text{ et } 2x^2 - 4x = 0$$

donc :  $(x=0 \text{ ou } x=2)$  et  $y = x$

donc :  $(\Delta)$  coupe le cercle  $(C)$  aux points :

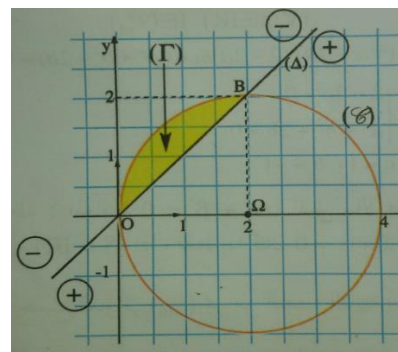
$O(0;0)$  et  $B(2;2)$

$$4)b) \frac{x^2+y^2}{4} \leq x \leq y \Leftrightarrow \begin{cases} x-y \leq 0 \\ x^2+y^2-4x \leq 0 \end{cases} \Leftrightarrow \begin{cases} x-y \leq 0 \\ (x-2)^2 + y^2 - 4 \leq 0 \end{cases}$$

L'inéquation :  $(x-2)^2 + y^2 - 4 \leq 0$  détermine l'ensemble des points  $M(x; y)$  du plan qui se trouve à l'intérieur du cercle  $(C)$  ou sur le cercle  $(C)$

Et L'inéquation :  $x - y \leq 0$  détermine l'ensemble des points  $M(x; y)$  du plan qui se trouve au-dessus de la droite  $(\Delta)$  ou sur la droite  $(\Delta)$

Voire la figure ci-dessus :



**Exercice23:** le plan  $(P)$  est rapporté à un repère

$\mathcal{R}(O; \vec{i}; \vec{j})$  orthonormé. Soient les points

$$A(3;4) \quad B(4;1); \quad C(2;-3)$$

1) montrer que les points  $A$  ;  $B$  et  $C$  sont non alignés

2) Ecrire l'équation du cercle  $(C)$  passant

par  $A$  ;  $B$  et  $C$

**Solution ::** 1) on a :  $\overline{AB}(1;-3)$  et  $\overline{AC}(-1;-7)$

$$\det(\overline{AB}; \overline{AC}) = \begin{vmatrix} 1 & -1 \\ -3 & -7 \end{vmatrix} = -10 \neq 0$$

Donc les points  $A$  ;  $B$  et  $C$  sont non alignés

1) Soient  $I\left(\frac{7}{2}; \frac{5}{2}\right)$  et  $J(3;-1)$  le milieu respectivement

du segments :  $[AB]$  et  $[BC]$

Et soit  $(D)$  la médiatrice de  $[AB]$  donc  $(D)$  passe par

$I$  et  $\overline{AB}$  un vecteur normal a  $(D)$

$$M(x; y) \in (D) \Leftrightarrow \overline{IM} \cdot \overline{AB} = 0 \Leftrightarrow \left(x - \frac{7}{2}\right) - 3\left(y - \frac{5}{2}\right) = 0$$

$$\Leftrightarrow x - 3y + 4 = 0$$

Donc :  $(D): x-3y+4=0$

Et soit  $(\Delta)$  la médiatrice de  $[BC]$  donc  $(\Delta)$  passe par  $J$  et  $\overrightarrow{BC}$  un vecteur normal a  $(\Delta)$

$M(x; y) \in (\Delta) \Leftrightarrow \overrightarrow{JM} \cdot \overrightarrow{BC} = 0 \Leftrightarrow x+2y-1=0$

Donc :  $(\Delta): x+2y-1=0$  (après simplifications)

soit  $\Omega$  est le Centre du cercle circonscrit du triangle  $ABC$  donc le point d'intersection de  $(\Delta)$  et  $(D)$  on va

donc résoudre le système : 
$$\begin{cases} x-3y+4=0 \\ x+2y-1=0 \end{cases}$$

Et la solution de ce système est :  $\Omega(-1;1)$  donc

$\Omega(-1;1)$  est le centre du cercle circonscrit du triangle

$ABC$  et le rayon est :  $r = A\Omega = \sqrt{(3+1)^2 + (4-1)^2} = 5$

Et l'équation du cercle est :  $(x+1)^2 + (y-1)^2 = 25$

$(C): x^2 + y^2 + 2x - 2y - 23 = 0$

**Exercice 24:** le plan  $(\mathcal{P})$  est rapporté à un repère  $\mathcal{R}(O; \vec{i}; \vec{j})$  orthonormé.  $(C_m)$  l'ensemble des points

$M(x; y)$  du plan tel que :

$(C_m): x^2 + y^2 - 2mx + 2y + 2m = 0$  avec  $m$  Paramètre réel

1) déterminer l'ensemble  $(C_1)$

2) a) montrer que  $\forall m \in \mathbb{R} - \{1\}$   $(C_m)$  est un cercle dont déterminera le centre  $\Omega_m$  et de rayon  $R_m$

2) b) déterminer l'ensemble des centres  $\Omega_m$  lorsque  $m \in \mathbb{R} - \{1\}$

2) b) montrer que tous les cercles  $(C_m)$  passent par un point fixe  $I$  dont déterminera et tracer  $(C_0); (C_2); (C_3)$

3) a) montrer que la droite  $(\Delta) : x=1$  est tangente A toutes les cercles  $(C_m)$

3) b) soit  $m > \frac{-3}{2}$  et  $m \neq 1$  et le point  $A(0;1)$

Vérifier que  $A$  est à l'extérieur des cercles  $(C_m)$  et que la droite  $(AI)$  n'est pas tangente aux cercles  $(C_m)$

**solution :** 1)  $(C_1)$  ? pour  $m=1$  on a :

$(C_1): x^2 + y^2 - 2x + 2y + 2 = 0 \Leftrightarrow (x-1)^2 + (y+1)^2 = 0$   
 $\Leftrightarrow x-1=0$  et  $y+1=0 \Leftrightarrow x=1$  et  $y=-1$

Donc :  $(C_1)$  est le point  $E(1; -1)$

2) a)  $(C_m): x^2 + y^2 - 2mx + 2y + 2m = 0 \Leftrightarrow$

$\Leftrightarrow (x-m)^2 + (y+1)^2 = (m-1)^2$

Donc :  $(C_m)$  est un cercle de centre  $\Omega_m(m; -1)$  et de rayon  $R_m = |m-1| \quad \forall m \in \mathbb{R} - \{1\}$

2) b) on pose :  $x=m$  et  $y=-1$  avec  $m \in \mathbb{R} - \{1\}$

on a donc: l'ensemble des centres  $\Omega_m$  lorsque  $m \in \mathbb{R} - \{1\}$  est la droite d'équation :  $y = -1$  privé du

Point  $E(1; -1)$

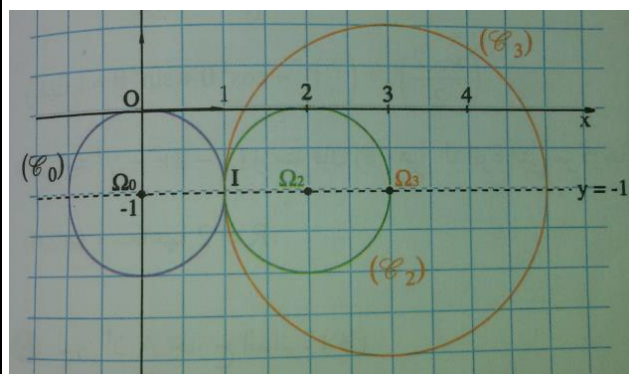
2) b)  $I(a; b) \in (C_m) \quad \forall m \in \mathbb{R} - \{1\}$

$\Leftrightarrow a^2 + b^2 - 2ma + 2b + 2m = 0$

$\Leftrightarrow m(2-2a) + a^2 + b^2 + 2b = 0 \quad \forall m \in \mathbb{R} - \{1\}$

$\Leftrightarrow \begin{cases} 2-2a=0 \\ a^2 + b^2 + 2b=0 \end{cases} \Leftrightarrow a=1 \text{ et } b=-1$  Donc : tous les

cercles  $(C_m)$  passent par un point fixe  $I(1; -1)$



3) a) L'équation de  $(\Delta)$  est :  $x+0y-1=0$

Et  $d(\Omega_m, (\Delta)) = \frac{|m-1|}{\sqrt{1^2 + 0^2}} = |m-1| = R_m$

Donc : la droite  $(\Delta)$  est tangente a toutes les cercles  $(C_m)$  (on peut montrer que  $(\Delta)$  coupe en  $(C_m)$  un point unique)

3) b) on a :  $x^2 + y^2 - 2mx + 2y + 2m = 2m + 3$

Et puisque :  $m > \frac{-3}{2}$  alors :  $x^2 + y^2 - 2mx + 2y + 2m > 0$

donc  $A$  est à l'extérieur des cercles  $(C_m)$

Montrons que :  $d(\Omega_m, (AI)) = \frac{|2m-2|}{\sqrt{5}} = \frac{2}{\sqrt{5}} R_m$

Donc :  $(AI)$  n'est pas tangente aux cercles  $(C_m)$

Car :  $\frac{2}{\sqrt{5}} R_m \neq R_m$